

**Проверочная работа
по ГЕОГРАФИИ**

7 класс

Образец

Пояснение к образцу проверочной работы

На выполнение проверочной работы по географии отводится два урока (не более 45 минут каждый). Работа состоит из двух частей и включает в себя 17 заданий.

Обе части работы могут выполняться в один день с перерывом не менее 10 минут или в разные дни.

При выполнении работы не разрешается пользоваться учебниками, рабочими тетрадями, справочным материалом. При выполнении всех заданий работы можно использовать карты атласа 7 класса. При вычислениях разрешается использовать непрограммируемый калькулятор. Для выполнения задания 2 потребуется карандаш.

При необходимости можно пользоваться черновиком. Записи в черновике проверяться и оцениваться не будут.



В образце представлено несколько примеров задания 11. В реальных вариантах проверочной работы на этой позиции будет предложено только одно задание.

Таблица для внесения баллов участника

Номер задания	Часть 1										Часть 2							Сумма баллов	Отметка за работу	
	1	2	3	4	5	6	7	8	9	10	11	12	13	14	15	16	17			
Баллы																				

Инструкция по выполнению заданий части 1 проверочной работы

На выполнение заданий части 1 проверочной работы по географии отводится один урок (не более 45 минут). Часть 1 включает в себя 9 заданий.

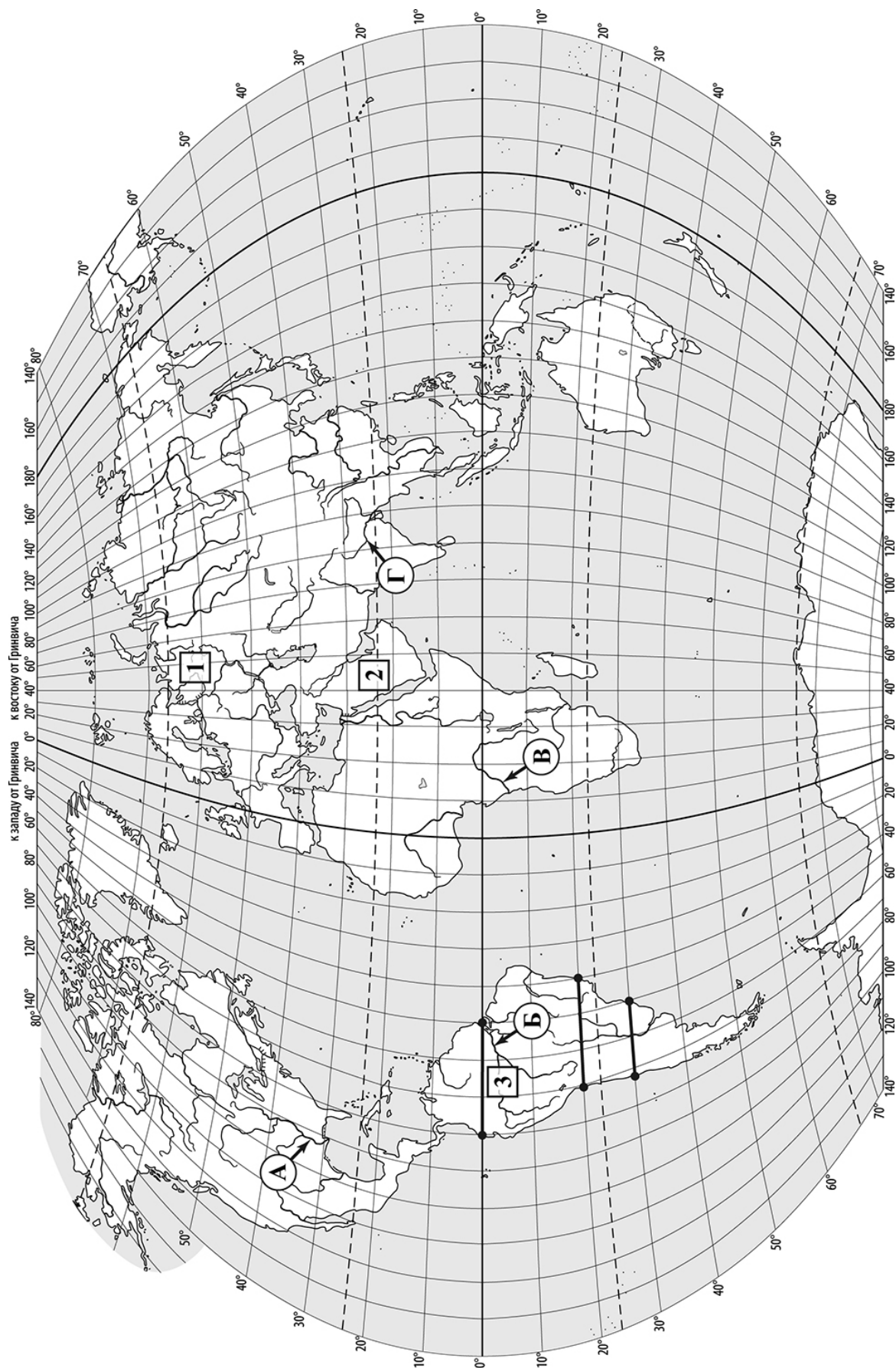
Ответы на задания запишите в поля ответов в тексте работы или в специально отведённом для ответа месте, указанном в задании. В случае записи неверного ответа зачеркните его и запишите рядом новый.

При выполнении заданий части 1 проверочной работы не разрешается пользоваться учебниками, рабочими тетрадями, справочным материалом. При выполнении всех заданий работы можно использовать карты атласа 7 класса. При вычислениях разрешается использовать непрограммируемый калькулятор. Для выполнения задания 2 потребуется карандаш.

При необходимости можно пользоваться черновиком. Записи в черновике проверяться и оцениваться не будут.

Советуем выполнять задания в том порядке, в котором они даны. В целях экономии времени пропускайте задание, которое не удаётся выполнить сразу, и переходите к следующему. Если после выполнения работы у Вас останется время, то Вы сможете вернуться к пропущенным заданиям.

Желаем успеха!



Часть 1

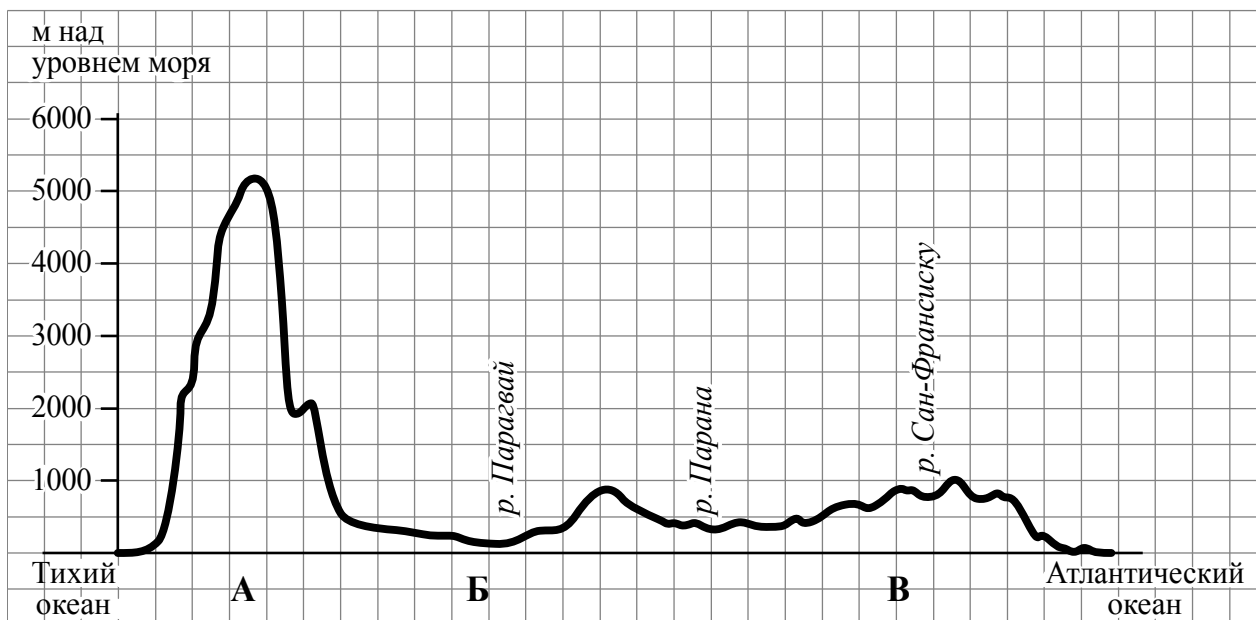
Задания 1–3 выполняются с использованием карты мира, приведённой на странице 3.

1 Реки играют важную роль во многих природных процессах на всех материках Земли. Определите, какой буквой на карте обозначена река Миссисипи.

Ответ:

2 Остров Калимантан относится к числу крупнейших островов Земли. Отметьте его знаком «✓» на карте.

3 На уроке географии Сергей построил профиль рельефа Южной Америки, представленный на рисунке. По какому из отрезков, проведённых на карте вдоль трёх параллелей, пересекающих материк Южная Америка, построен профиль рельефа, представленный на рисунке? Укажите в ответе эту параллель.



Ответ: _____

4 Какой крупной форме рельефа соответствует участок профиля, обозначенный на рисунке буквой В?

- 1) Амазонская низменность
- 2) горы Анды
- 3) Бразильское плоскогорье
- 4) Ла-Платская низменность

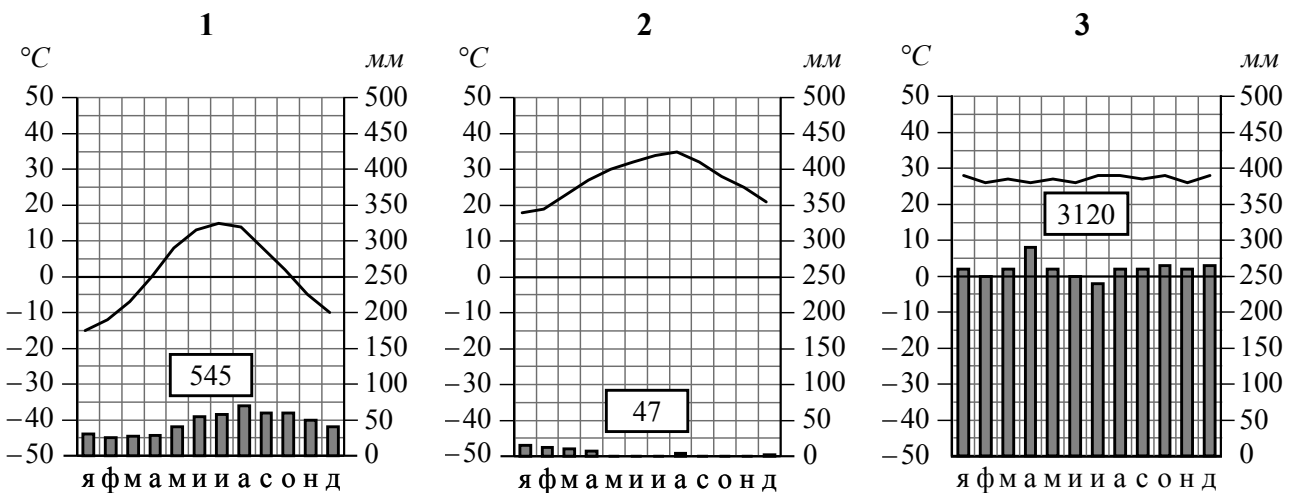
Ответ:

5 Определите абсолютную высоту (в метрах) наиболее высокой точки на линии профиля в пределах участка, обозначенного на рисунке буквой В.

Ответ: _____ м

Задания 6 и 7 выполняются с использованием карты мира, приведённой на странице 3, и приведённых ниже климатограмм, построенных по данным метеонаблюдений в разных частях Земли.

6 На карте мира пункты, для которых построены изображённые на рисунках климатограммы, обозначены цифрами, соответствующими номерам климатограмм. Определите, какому климатическому поясу соответствует каждая климатограмма. Подпишите названия климатических поясов под соответствующими климатограммами.



7 Выберите любую из приведённых выше климатограмм. Укажите в названии таблицы номер этой климатограммы и заполните таблицу климатических показателей, используя данные соответствующей климатограммы.

Климатические показатели пункта _____

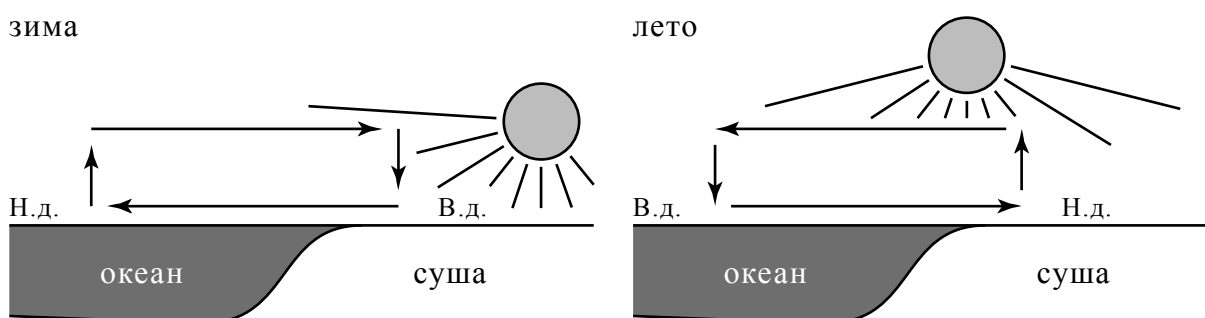
Средняя температура воздуха, °С		Годовая амплитуда температур, °С	Годовое количество осадков, мм	Месяц, на который приходится наибольшее количество осадков
в январе	в июле			

8 Определите, какой природной зоне мира соответствуют приведённые ниже характеристики. Укажите в ответе название этой природной зоны.

- 1) Эта зона занимает большие территории в Северном полушарии (в Северной Америке и Евразии).
- 2) Чётко выражены сезоны года.
- 3) В растительном покрове преобладают хвойные деревья.
- 4) Формируются подзолистые почвы.
- 5) Типичные представители животного мира: бурый медведь, лисица, волк, белка.

Ответ: _____

9 Определите, развитие какого природного процесса отображено на схеме.



Н.д. – низкое давление
В.д. – высокое давление

Ответ: _____

Инструкция по выполнению заданий части 2 проверочной работы

На выполнение заданий части 2 проверочной работы по географии отводится один урок (не более 45 минут). Часть 2 включает в себя 8 заданий.

Ответы на задания запишите в поля ответов в тексте работы или в специально отведённом для ответа месте, указанном в задании. В случае записи неверного ответа зачеркните его и запишите рядом новый.

При выполнении заданий части 2 проверочной работы не разрешается пользоваться учебниками, рабочими тетрадями, справочным материалом. При выполнении всех заданий работы можно использовать карты атласа 7 класса. При вычислениях разрешается использовать непрограммируемый калькулятор.

При необходимости можно пользоваться черновиком. Записи в черновике проверяться и оцениваться не будут.

Советуем выполнять задания в том порядке, в котором они даны. В целях экономии времени пропускайте задание, которое не удаётся выполнить сразу, и переходите к следующему. Если после выполнения работы у Вас останется время, то Вы сможете вернуться к пропущенным заданиям.

Желаем успеха!

Часть 2

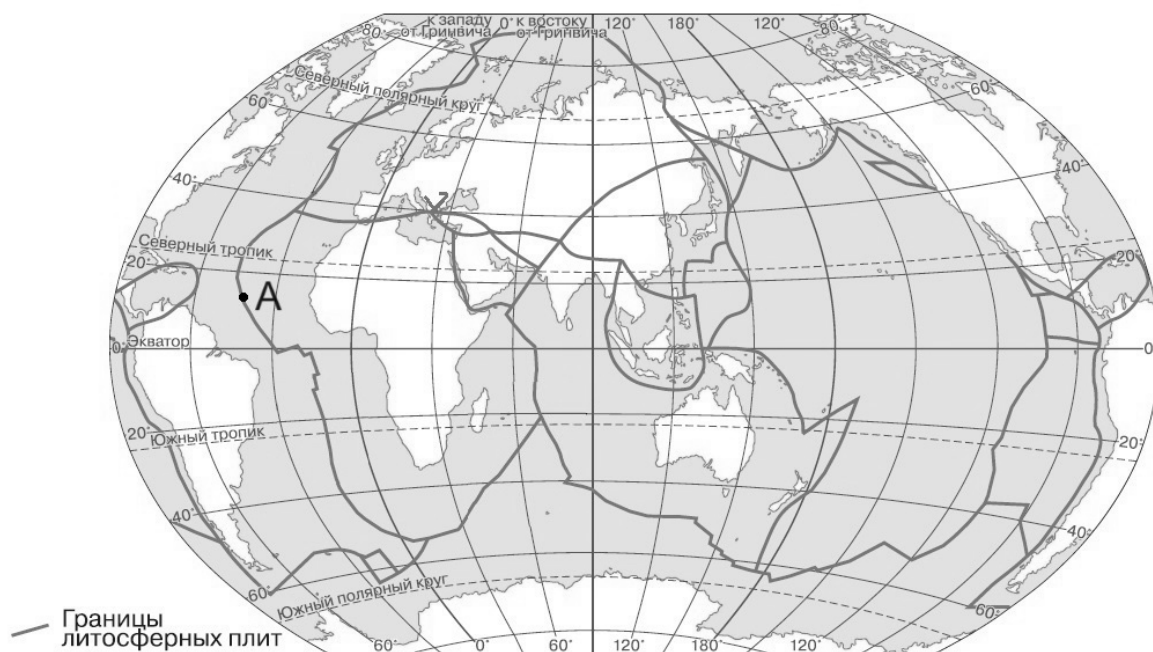
10 Ритмичность – одна из важнейших закономерностей, свойственных географической оболочке. Какое из перечисленных географических явлений является примером её проявления?

- 1) смена направления бризов в течение суток
- 2) смена природных зон в Евразии при движении с севера на юг
- 3) изменение атмосферного давления с высотой
- 4) изменение средней годовой температуры воздуха от экватора к полюсам

Ответ:

11 Определите, какой процесс происходит на границе литосферных плит в точке, обозначенной на карте буквой А.

Границы литосферных плит



- 1) раздвижение земной коры океанического типа
- 2) раздвижение земной коры материкового типа
- 3) погружение плиты с земной корой океанического типа под плиту с корой материкового типа
- 4) столкновение плит с земной корой материкового типа

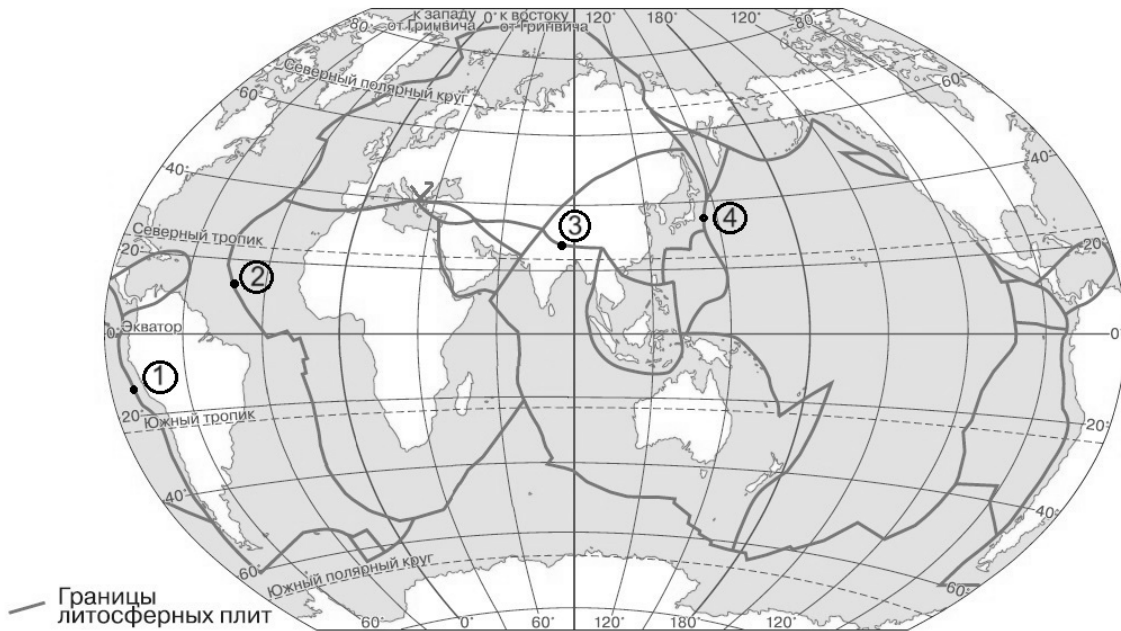
Ответ:

11

ИЛИ

Определите, в какой из обозначенных на карте цифрами точек происходит процесс раздвижения земной коры океанического типа.

Границы литосферных плит

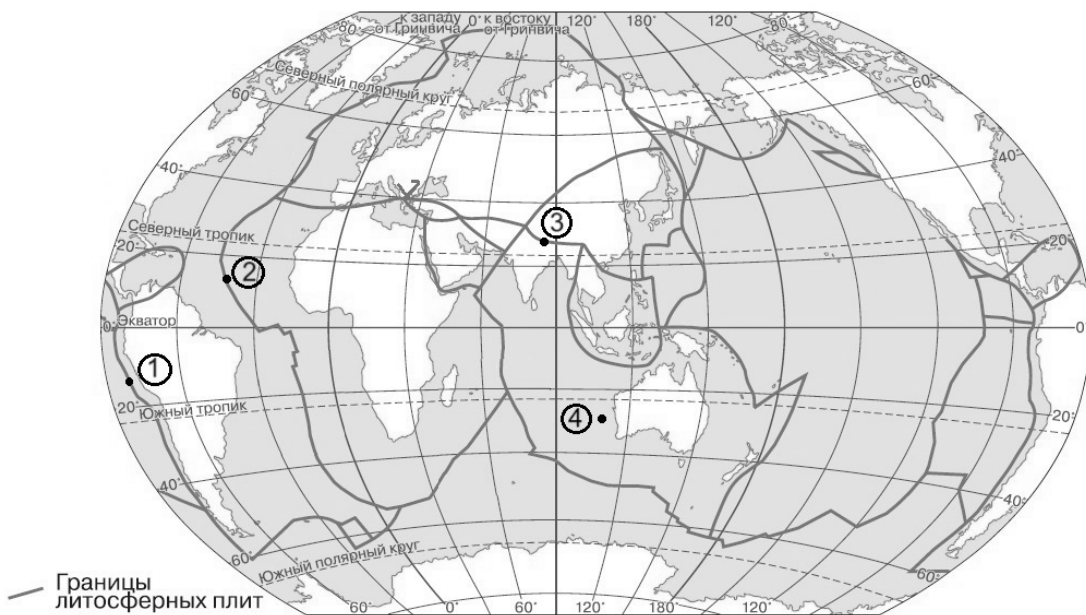


Ответ:

ИЛИ

Определите, в какой из обозначенных на карте цифрами точек происходит процесс образования подводных гор.

Границы литосферных плит



Ответ:

Задания 12–14 выполняются с использованием приведённой ниже таблицы.

Территория, численность и возрастной состав населения некоторых стран, 2017 г.


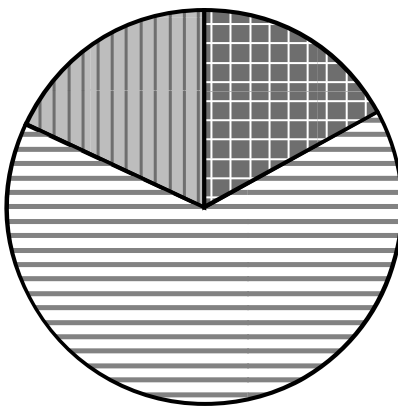
Страна	Площадь территории, км ²	Численность населения, млн человек	Доля населения, %		
			в возрасте до 15 лет	в возрасте от 15 до 65 лет	в возрасте 65 лет и старше
1) Бразилия	8 358 140	211	22	69	9
2) Великобритания	229 946	66	17	65	18
3) Нигер	1 266 700	22	49	48	3
4) Япония	364 485	126	13	59	28

- 12) Расположите страны в порядке **увеличения** численности населения, начиная со страны с самой маленькой численностью. Запишите в ответе последовательность **порядковых номеров** этих стран.

Ответ:

--	--	--	--

- 13) Возрастной состав населения какой страны отражает представленная на рисунке диаграмма? Запишите в ответе **название** страны.



доля населения в возрасте до 15 лет



доля населения в возрасте от 15 до 65 лет



доля населения в возрасте 65 лет и старше

Ответ: _____

- 14) Определите, в какой из представленных в таблице стран средняя плотность населения наибольшая. Запишите в ответе **название** страны.

Ответ: _____

15 Определите страну по её краткому описанию.

Особенностью географического положения этой страны является выход к морям Тихого океана. По численности населения и размерам территории она входит в пятёрку крупнейших стран мира. Её территория расположена в трёх климатических поясах, для восточной части характерен муссонный климат. Коренное население относится к монголоидной расе. В городах проживает около 60 % населения. Страна занимает лидирующие позиции в мире по производству многих видов промышленной и сельскохозяйственной продукции.

Ответ: _____

Задания 16 и 17 выполняются с использованием приведённого ниже текста.

Пустыня Намиб

Намиб – прибрежная пустыня в юго-западной части Африки. Пустыня простирается на 1900 км вдоль побережья Атлантического океана. От океана она уходит в глубь материка на расстояние от 50 до 160 км. Это одна из самых засушливых территорий в мире. Среднегодовое количество атмосферных осадков на побережье не превышает 15 мм, но при движении в глубь материка постепенно увеличивается, достигая уровня 52 мм. У побережья практически нет разницы между дневными и ночными или зимними и летними температурами, температура воздуха редко опускается ниже +10 °С или поднимается выше 16 °С. Во внутренних областях пустыни летняя температура достигает +31 °С.

Основным источником влаги для большинства растений и животных является роса, выпадающая из насыщенного водяным паром воздуха, который приносят ветры, дующие днём с океана.

16 Как называются ветры, дующие днём с океана?

Ответ: _____

17 Обычно количество атмосферных осадков при удалении от побережья уменьшается. Объясните, почему на территории пустыни Намиб количество атмосферных осадков увеличивается.

Ответ: _____

Система оценивания проверочной работы

Часть 1

Полный правильный ответ на каждое из заданий 1, 3–5, 8 и 9 оценивается 1 баллом. Если в ответе допущена хотя бы одна ошибка (один из элементов ответа записан неправильно или не записан), выставляется 0 баллов.

Номер задания	Правильный ответ
1	А
3	20° ю.ш.
4	3
5	1000 (принимаются ответы в интервале от 900 до 1100)
8	тайга
9	образование муссона; муссон

- 2) Остров Калимантан относится к числу крупнейших островов Земли. Отметьте его знаком: «√» на карте.

Содержание верного ответа и указания по оцениванию	Баллы
На карте правильно отмечен остров Калимантан	
Ответ содержит названный выше элемент	1
Все ответы, которые не соответствуют вышеуказанному критерию выставления оценки в 1 балл	0
<i>Максимальный балл</i>	<i>1</i>

- 6) На карте мира пункты, для которых построены изображённые на рисунках климатограммы, обозначены цифрами, соответствующими номерам климатограмм. Определите, какому климатическому поясу соответствует каждая климатограмма. Подпишите названия климатических поясов под соответствующими климатограммами.

Содержание верного ответа и указания по оцениванию	Баллы
Полный правильный ответ должен содержать следующие <u>элементы</u> : 1) <u>климатограмма 1</u> – умеренный; 2) <u>климатограмма 2</u> – тропический; 3) <u>климатограмма 3</u> – экваториальный	
Ответ включает в себя все три названных выше элемента	2
Ответ включает в себя два (любых) из названных выше элементов	1
Все ответы, которые не соответствуют вышеуказанным критериям выставления оценок в 1 и 2 балла	0
<i>Максимальный балл</i>	<i>2</i>

7

Выберите любую из приведённых выше климатограмм. Укажите в названии таблицы номер этой климатограммы и заполните таблицу климатических показателей, используя данные соответствующей климатограммы.

Содержание верного ответа и указания по оцениванию					Баллы																																				
<p>Полный правильный ответ должен содержать правильно заполненную таблицу.</p> <p style="text-align: center;">Климатические показатели пункта __ 1 __</p> <table border="1"> <thead> <tr> <th colspan="2">Средняя температура воздуха, °С</th> <th rowspan="2">Годовая амплитуда температур, °С</th> <th rowspan="2">Годовое количество осадков, мм</th> <th rowspan="2">Месяц, на который приходится наибольшее количество осадков</th> </tr> <tr> <th>в январе</th> <th>в июле</th> </tr> </thead> <tbody> <tr> <td>-15</td> <td>+15</td> <td>30</td> <td>545</td> <td>август</td> </tr> </tbody> </table> <p><i>При определении средних температур и годовой амплитуды температур допускается погрешность ± 1 °С</i></p> <p style="text-align: center;">ИЛИ</p> <p style="text-align: center;">Климатические показатели пункта __ 2 __</p> <table border="1"> <thead> <tr> <th colspan="2">Средняя температура воздуха, °С</th> <th rowspan="2">Годовая амплитуда температур, °С</th> <th rowspan="2">Годовое количество осадков, мм</th> <th rowspan="2">Месяц, на который приходится наибольшее количество осадков</th> </tr> <tr> <th>в январе</th> <th>в июле</th> </tr> </thead> <tbody> <tr> <td>+18</td> <td>+35</td> <td>17</td> <td>47</td> <td>январь</td> </tr> </tbody> </table> <p><i>При определении средних температур и годовой амплитуды температур допускается погрешность ± 1 °С</i></p> <p style="text-align: center;">ИЛИ</p> <p style="text-align: center;">Климатические показатели пункта __ 3 __</p> <table border="1"> <thead> <tr> <th colspan="2">Средняя температура воздуха, °С</th> <th rowspan="2">Годовая амплитуда температур, °С</th> <th rowspan="2">Годовое количество осадков, мм</th> <th rowspan="2">Месяц, на который приходится наибольшее количество осадков</th> </tr> <tr> <th>в январе</th> <th>в июле</th> </tr> </thead> <tbody> <tr> <td>+28</td> <td>+28</td> <td>2</td> <td>3120</td> <td>апрель</td> </tr> </tbody> </table> <p><i>При определении средних температур и годовой амплитуды температур допускается погрешность ± 1 °С</i></p>					Средняя температура воздуха, °С		Годовая амплитуда температур, °С	Годовое количество осадков, мм	Месяц, на который приходится наибольшее количество осадков	в январе	в июле	-15	+15	30	545	август	Средняя температура воздуха, °С		Годовая амплитуда температур, °С	Годовое количество осадков, мм	Месяц, на который приходится наибольшее количество осадков	в январе	в июле	+18	+35	17	47	январь	Средняя температура воздуха, °С		Годовая амплитуда температур, °С	Годовое количество осадков, мм	Месяц, на который приходится наибольшее количество осадков	в январе	в июле	+28	+28	2	3120	апрель	
Средняя температура воздуха, °С		Годовая амплитуда температур, °С	Годовое количество осадков, мм	Месяц, на который приходится наибольшее количество осадков																																					
в январе	в июле																																								
-15	+15	30	545	август																																					
Средняя температура воздуха, °С		Годовая амплитуда температур, °С	Годовое количество осадков, мм	Месяц, на который приходится наибольшее количество осадков																																					
в январе	в июле																																								
+18	+35	17	47	январь																																					
Средняя температура воздуха, °С		Годовая амплитуда температур, °С	Годовое количество осадков, мм	Месяц, на который приходится наибольшее количество осадков																																					
в январе	в июле																																								
+28	+28	2	3120	апрель																																					
Таблица заполнена правильно					2																																				
В таблице допущена одна ошибка, или один из столбцов таблицы не заполнен					1																																				
Все ответы, которые не соответствуют вышеуказанным критериям выставления оценок в 1 и 2 балла					0																																				
<i>Максимальный балл</i>					2																																				

Система оценивания проверочной работы

Часть 2

Полный правильный ответ на каждое из заданий 10–15 оценивается 1 баллом. Если в ответе допущена хотя бы одна ошибка (один из элементов ответа записан неправильно или не записан), выставляется 0 баллов.

Номер задания	Правильный ответ		
10	1		
11	1	2	2
12	3241		
13	Великобритания		
14	Япония		
15	Китай		

16 Как называются ветры, дующие днём с океана?

Содержание верного ответа и указания по оцениванию	Баллы
В ответе говорится, что ветры, дующие днём с океана, называются бризы	
Ответ содержит названный выше элемент	1
Все ответы, которые не соответствуют вышеуказанному критерию выставления оценки в 1 балл	0
<i>Максимальный балл</i>	<i>1</i>

17 Обычно количество атмосферных осадков при удалении от побережья уменьшается. Объясните, почему на территории пустыни Намиб количество атмосферных осадков увеличивается.

Содержание верного ответа и указания по оцениванию (допускаются иные формулировки ответа, не искажающие его смысла)	Баллы
В ответе говорится об ослаблении влияния холодного течения при удалении от побережья ИЛИ что это связано с холодным течением, проходящим у побережья материка	
Ответ содержит названный выше элемент	1
Все ответы, которые не соответствуют вышеуказанному критерию выставления оценки в 1 балл	0
<i>Максимальный балл</i>	<i>1</i>

Система оценивания выполнения всей работы

Максимальный первичный балл за выполнение работы – 19.

Рекомендации по переводу первичных баллов в отметки по пятибалльной шкале

Отметка по пятибалльной шкале	«2»	«3»	«4»	«5»
Первичные баллы	0–5	6–11	12–16	17–19

**ДОКУМЕНТ ПОДПИСАН
ЭЛЕКТРОННОЙ ПОДПИСЬЮ**

СВЕДЕНИЯ О СЕРТИФИКАТЕ ЭП

Сертификат 194515710994592247154964585592159115514362733450

Владелец Дубонос Светлана Михайловна

Действителен с 03.02.2026 по 03.02.2027