

**Итоговая контрольная работа по истории за курс 7 класса
2025-2026 учебный год
Демонстрационный вариант**

№1. Установите соответствие между событиями (процессами) и их участниками: к каждой позиции первого столбца подберите соответствующую позицию из второго столбца.

СОБЫТИЯ (ПРОЦЕССЫ)	УЧАСТНИКИ
А) введение единой системы денежного обращения в России	1) Елена Глинская
Б) издание Новоторгового устава	2) Фернан Магеллан
В) начало реформации в Германии	3) Д.Т. Трубецкой
	4) Мартин Лютер
	5) А.Л. Ордин-Нащокин

Запишите в таблицу выбранные цифры под соответствующими буквами.

А	Б	В

Прочтите отрывок из исторического источника и выполните задания 2, 3.

«Приказ тайных дел; а в нём сидят дьяк да подьячих с 10 человек, и ведают они, и делают дела всякие царские, тайные и явные; и в тот Приказ бояре и думные люди не входят и дел не ведают, кроме самого царя. А посылаются того Приказу подьячие с послами в государства, и на посольские съезды, и в войну с воеводами, для того что послы в своих посольствах много чинят не к чести своему государю, в проезде и в разговорных речах... а воеводы в полках много неправды чинят над ратными людьми, и те подьячие над послами и над воеводами подсматривают и царю, приехав, сказывают... А устроен тот Приказ при нынешнем царе, для того чтоб его царская мысль и дела исполнились все по его хотению, а бояре б и думные люди о том ничего не ведали.

Да в том же Приказе ведомы гранатного дела мастера и всякое гранатное дело и заводы: а на строение того гранатного дела и на заводы деньги, на покупку и на жалованье мастеровым людям берут из разных приказов, откуда царь велит...»

№2. Назовите упомянутого в отрывке «нынешнего царя».

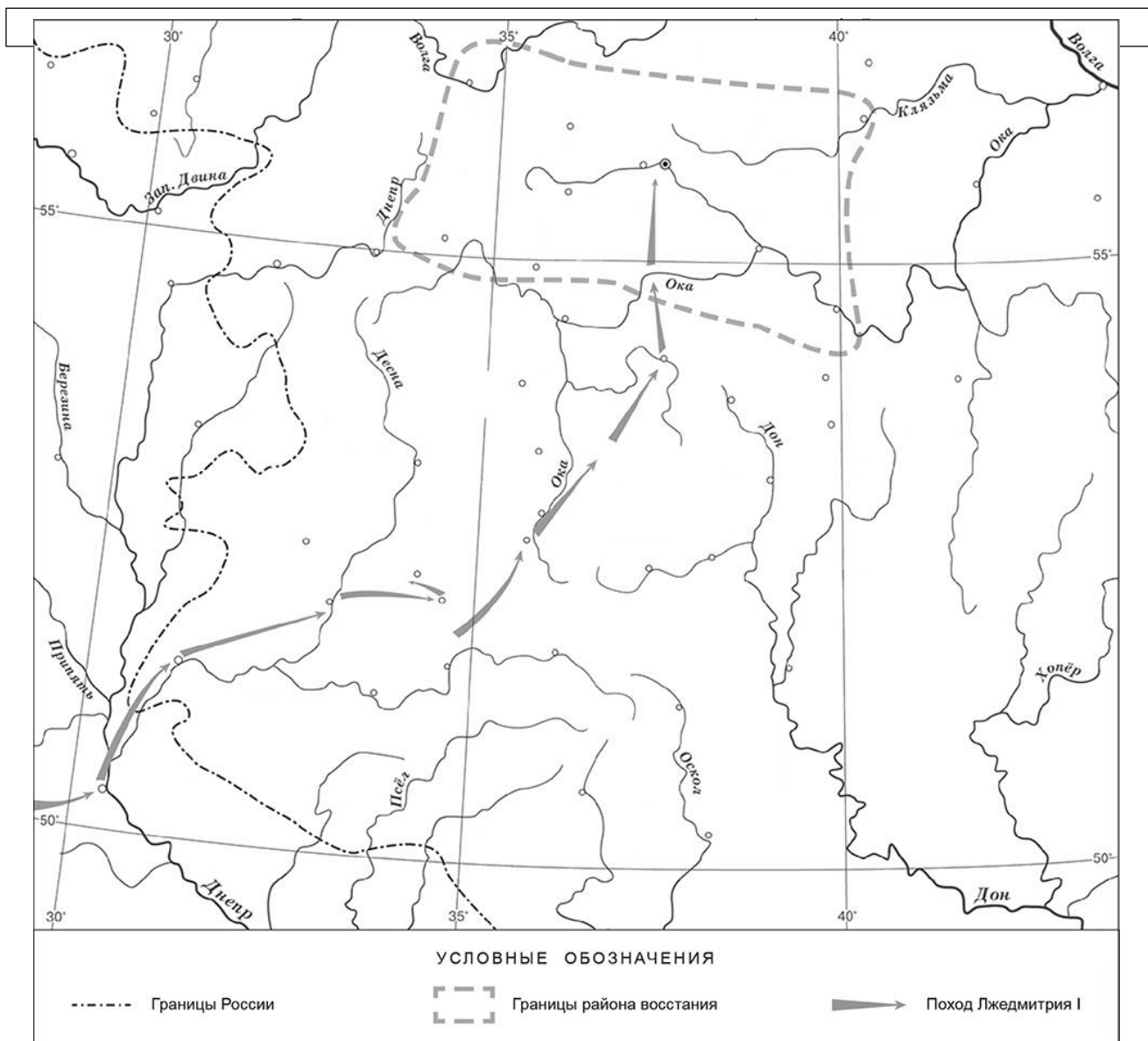
Ответ: _____

Укажите название государства, с которым в период правления этого царя Россия вела наиболее длительную войну.

Ответ: _____

№3. Как согласно данному отрывку обеспечивалась особая секретность Приказа, о котором идёт речь в данном отрывке, предполагавшая недоступность информации о его деятельности для приближённых царя? Зачем согласно данному отрывку подьячие, служившие в Приказе, отправлялись с послами и воеводами?

Ответ: _____



№4. Укажите российского монарха в период, когда произошло восстание, границы района которого отмечены на карте.

Ответ: _____.

№5. Подпишите на карте город Москву и Речь Посполитую.

№6. Какой из приведённых исторических фактов можно использовать для аргументации следующей точки зрения: «Внешняя политика России в последние 10 лет царствования Ивана IV была неудачной»? Укажите порядковый номер этого факта в списке.

- 1) битва при Молодях
- 2) заключение Плюсского договора со Швецией
- 3) начало проведения политики опричнины

Ответ:

Объясните, как с помощью выбранного Вами факта можно аргументировать данную точку зрения.

Ответ: _____



№7. Укажите с точностью до половины века время, когда в России пресеклась царская династия Рюриковичей. Укажите одно любое событие из истории зарубежных стран, относящееся к той же половине века. Не следует указывать событие из истории международных отношений, одной из сторон которых была Россия.

Время с точностью до половины века:

Событие из истории зарубежных стран: _____

Ознакомьтесь с приведённым перечнем и изображениями памятников культуры и выполните задания 8, 9.

- 1) «Государев родословец»
- 2) «Калязинская челобитная»



№8. Какие из приведённых памятников культуры были созданы в XVI в.? Выберите два памятника культуры и запишите в таблицу цифры, под которыми они указаны.

Ответ:

--	--

№9. Создателем какого из приведённых памятников культуры был Симон Ушаков? Укажите порядковый номер этого памятника культуры.

Ответ:

--

№10. Рассмотрите изображение и ответьте на вопросы.



В какой по счёту год с начала Великой Отечественной войны произошли события, которым посвящён данный памятник? Почему необходимо сохранять память о Великой Отечественной войне?

Ответ _____

**ДОКУМЕНТ ПОДПИСАН
ЭЛЕКТРОННОЙ ПОДПИСЬЮ**

СВЕДЕНИЯ О СЕРТИФИКАТЕ ЭП

Сертификат 194515710994592247154964585592159115514362733450

Владелец Дубонос Светлана Михайловна

Действителен с 03.02.2026 по 03.02.2027