

**Проверочная работа
по МАТЕМАТИКЕ
(базовый уровень)**

8 класс

Образец

Пояснение к образцу проверочной работы

На выполнение работы по математике базового уровня отводится два урока (не более 45 минут каждый). Работа состоит из двух частей и включает в себя 18 заданий.

Обе части работы могут выполняться в один день с перерывом не менее 10 минут или в разные дни.

При выполнении работы не разрешается пользоваться учебниками, рабочими тетрадями, справочниками, калькулятором.

При необходимости можно пользоваться черновиком. Записи в черновике проверяться и оцениваться не будут.



В образце представлено по несколько примеров заданий 1 и 10. В реальных вариантах проверочной работы на каждую из этих позиций будет предложено только одно задание.

Таблица для внесения баллов участника

Часть 1												
Номер задания	1	2	3	4	5	6	7	8	9	10	11	12
Баллы												
Часть 2												
Номер задания	13	14	15	16	17	18	Сумма баллов		Отметка за работу			
Баллы												

Таблица квадратов двузначных чисел

		Единицы									
		0	1	2	3	4	5	6	7	8	9
Десятки	1	100	121	144	169	196	225	256	289	324	361
	2	400	441	484	529	576	625	676	729	784	841
	3	900	961	1024	1089	1156	1225	1296	1369	1444	1521
	4	1600	1681	1764	1849	1936	2025	2116	2209	2304	2401
	5	2500	2601	2704	2809	2916	3025	3136	3249	3364	3481
	6	3600	3721	3844	3969	4096	4225	4356	4489	4624	4761
	7	4900	5041	5184	5329	5476	5625	5776	5929	6084	6241
	8	6400	6561	6724	6889	7056	7225	7396	7569	7744	7921
	9	8100	8281	8464	8649	8836	9025	9216	9409	9604	9801

Инструкция по выполнению заданий части 1 проверочной работы

На выполнение заданий части 1 проверочной работы по математике отводится один урок (не более 45 минут). Часть 1 включает в себя 12 заданий.

Ответы на задания запишите в поля ответов в тексте работы. В заданиях 4 и 6 нужно отметить точку на числовой прямой. Если Вы хотите изменить ответ, зачеркните его и запишите рядом новый.

При выполнении работы не разрешается пользоваться учебниками, рабочими тетрадями, справочниками, калькулятором.

При необходимости можно пользоваться черновиком. Записи в черновике проверяться и оцениваться не будут.

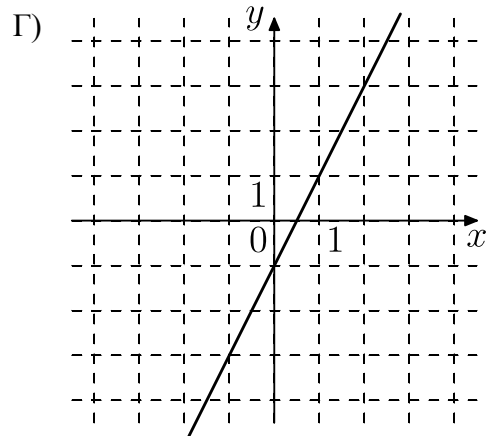
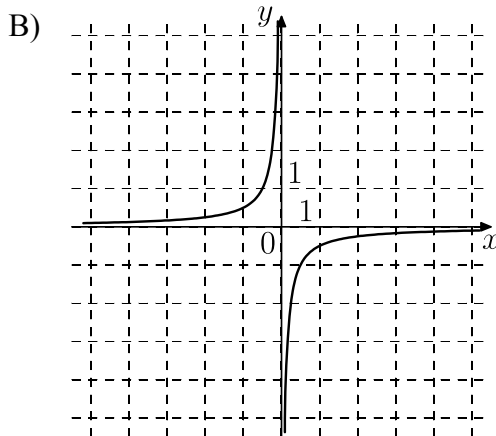
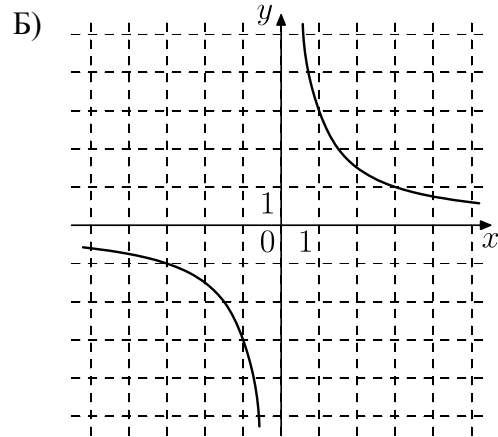
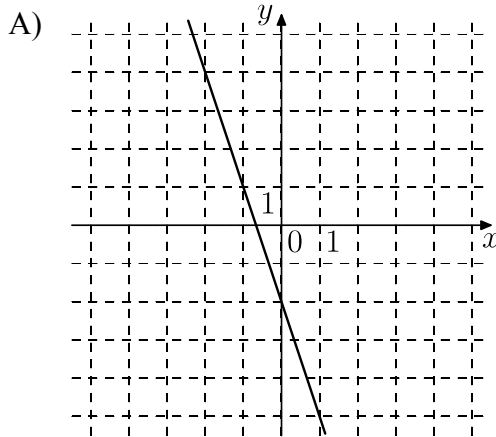
Советуем выполнять задания в том порядке, в котором они даны. В целях экономии времени пропускайте задание, которое не удаётся выполнить сразу, и переходите к следующему. Если после выполнения работы у Вас останется время, то Вы сможете вернуться к пропущенным заданиям.

Желаем успеха!

5

Установите соответствие между графиками функций и формулами, которые задают эти функции.

ГРАФИКИ



ФОРМУЛЫ

- 1) $y = 2x - 1$; 2) $y = -3x - 2$;
3) $y = \frac{3}{x}$; 4) $y = -\frac{1}{2x}$.

В таблице под каждой буквой укажите соответствующий номер.

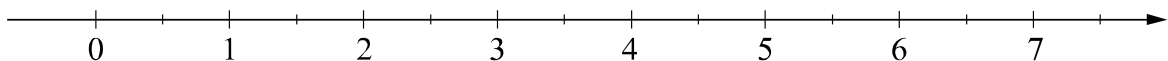
Ответ:

А	Б	В	Г

6

Отметьте на числовой прямой число $\sqrt{34}$.

Ответ:



Инструкция по выполнению заданий части 2 проверочной работы

На выполнение заданий части 2 проверочной работы по математике отводится один урок (не более 45 минут). Часть 2 включает в себя 6 заданий.

В заданиях 13, 15–18 запишите решение и ответ в указанном месте. В задании 14 ответьте на поставленные вопросы. Если Вы хотите изменить ответ, зачеркните его и запишите рядом новый.

При выполнении работы не разрешается пользоваться учебниками, рабочими тетрадями, справочниками, калькулятором.

При необходимости можно пользоваться черновиком. Записи в черновике проверяться и оцениваться не будут.

Советуем выполнять задания в том порядке, в котором они даны. В целях экономии времени пропускайте задание, которое не удаётся выполнить сразу, и переходите к следующему. Если после выполнения работы у Вас останется время, то Вы сможете вернуться к пропущенным заданиям.


Желаем успеха!

Часть 2

13

Решите уравнение $4x^2 + 12x + 9 = (x - 4)^2$.

Решение.

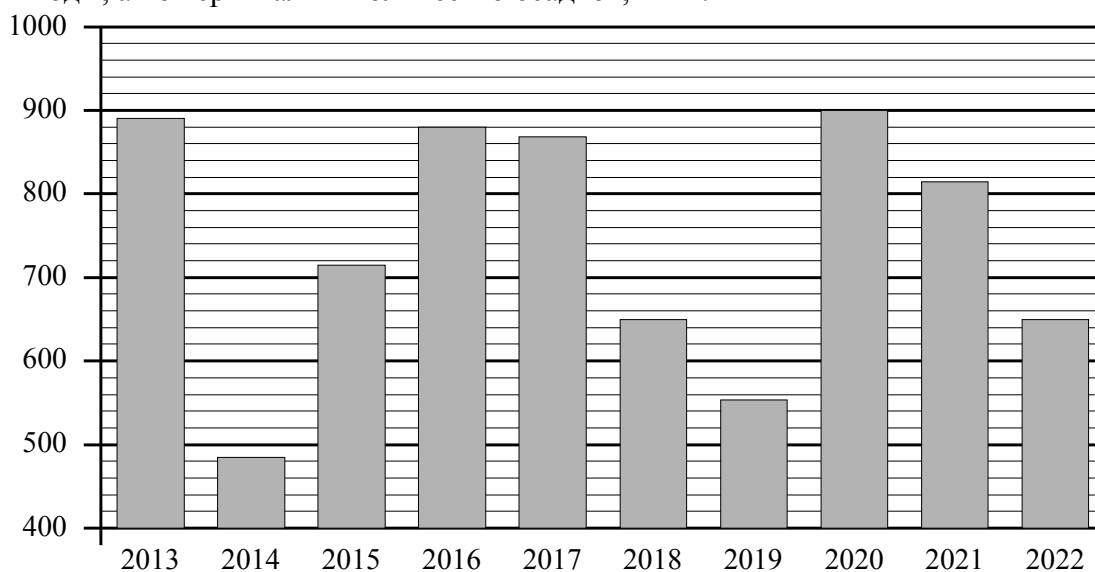


Ответ:



14

На диаграмме представлены данные о годовом количестве осадков в Москве. По горизонтали указаны годы, а по вертикали – количество осадков, в мм.



Ответьте на вопросы.

1) В какие годы из указанного периода в Москве за год выпало менее 600 мм осадков?

Ответ: _____

2) Примерно на сколько мм в 2021 году выпало осадков больше, чем в 2022?

Ответ: _____

15

Расстояние между пунктами А и В по реке равно 45 км. Из пункта А в пункт В по течению реки отправился плот, а через час вслед за ним отправилась моторная лодка, которая, прибыв в пункт В, тотчас повернула обратно и возвратилась в пункт А. К моменту возвращения лодки в пункт А плот проплыл 32 км. Найдите скорость лодки в неподвижной воде, если скорость течения реки равна 4 км/ч.

Решение.

Ответ:

18

В прямоугольном треугольнике ABC с гипотенузой AB провели высоту CD и биссектрису CL .
Найдите величину угла DCL , если $\angle CAB = 25^\circ$. Ответ дайте в градусах.

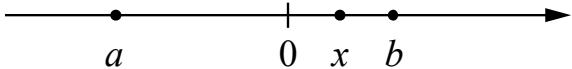
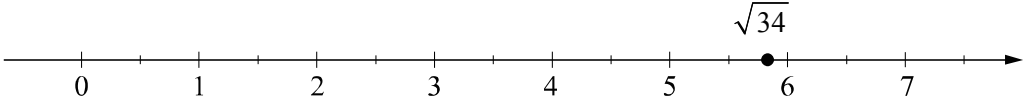
Решение.

Ответ:

Система оценивания проверочной работы

Часть 1

Номер задания	1	2	3	4	5	6	7	8	9	10	11	12	Итого
Баллы	1	1	1	1	1	1	1	1	1	1	1	1	12

Номер задания	Правильный ответ
1	28 ИЛИ 18,2
2	0,4; 3
3	-12 и 10 или -10 и 12
4	 <p>В качестве верного следует засчитать любой ответ, где точка x лежит между точками 0 и b</p>
5	2341
6	 <p>любая точка на интервале от 5,5 до 6</p>
7	-2,6
8	$\frac{1}{6}$
9	110°
10	$\sqrt{10}$ ИЛИ 300
11	A
12	3

Система оценивания проверочной работы

Часть 2

Номер задания	13	14	15	16	17	18	Итого
Баллы	2	2	2	2	2	2	12

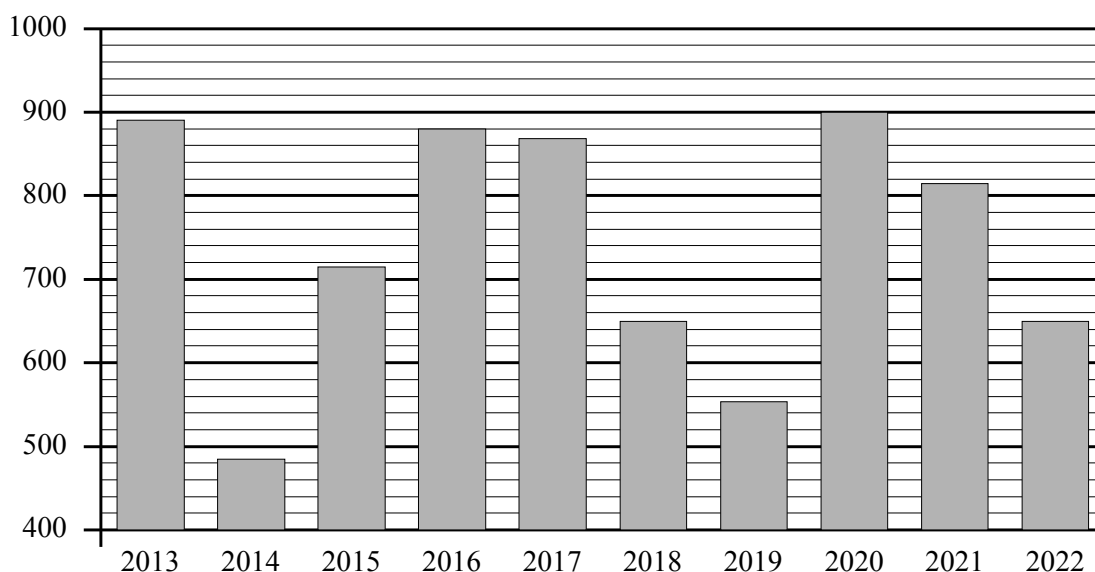
13

Решите уравнение $4x^2 + 12x + 9 = (x - 4)^2$.

Решение и указания к оцениванию	Баллы
<p>Решение. $(2x + 3)^2 = (x - 4)^2$; $2x + 3 = x - 4$; откуда $2x + 3 = x - 4$ либо $2x + 3 = 4 - x$. Корни уравнения: -7 или $\frac{1}{3}$.</p> <p>Возможна другая последовательность действий.</p> <p>Ответ: -7; $\frac{1}{3}$</p>	
Обоснованно получен верный ответ	2
Дан верный ответ, но решение недостаточно обосновано. ИЛИ Ход решения верный, но допущена вычислительная ошибка	1
Решение не соответствует ни одному из критериев, перечисленных выше	0
<i>Максимальный балл</i>	2

14

На диаграмме представлены данные о годовом количестве осадков в Москве. По горизонтали указаны годы, а по вертикали – количество осадков, в мм.



- 1) В какие годы из указанного периода в Москве за год выпало менее 600 мм осадков?
- 2) Примерно на сколько мм в 2021 году выпало осадков больше, чем в 2022?

Ответ и указания к оцениванию	Баллы
Ответы: 1) 2014 г., 2019 г.; 2) любое значение от 140 до 180 мм	
Даны два верных ответа	2
Дан только один верный ответ	1
Даны неверные ответы	0
<i>Максимальный балл</i>	2

15

Расстояние между пунктами А и В по реке равно 45 км. Из пункта А в пункт В по течению реки отправился плот, а через час вслед за ним отправилась моторная лодка, которая, прибыв в пункт В, тотчас повернула обратно и возвратилась в пункт А. К моменту возвращения лодки в пункт А плот проплыл 32 км. Найдите скорость лодки в неподвижной воде, если скорость течения реки равна 4 км/ч.

Решение и указания к оцениванию	Баллы
<p>Решение. Лодка ходила в оба конца в течение 7 часов, поскольку плот проплыл по течению 32 км. Обозначив скорость лодки x км/ч, получаем уравнение</p> $\frac{45}{x+4} + \frac{45}{x-4} = 7,$ <p>откуда: $90x = 7(x^2 - 16)$; $7x^2 - 90x - 112 = 0$. Полученное уравнение имеет единственный положительный корень равный 14. Возможна другая последовательность действий. Ответ: 14 км/ч</p>	
Обоснованно получен верный ответ	2
Дан верный ответ, но решение недостаточно обосновано. ИЛИ Ход решения верный, но допущена вычислительная ошибка	1
Решение не соответствует ни одному из критериев, перечисленных выше	0
<i>Максимальный балл</i>	2

16

Правильный игральный кубик бросают два раза. Найдите вероятность того, что сумма выпавших очков окажется не меньше 9.

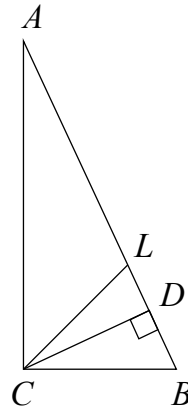
Решение и указания к оцениванию	Баллы																																																	
<p>Решение.</p> <p>Обозначим A событие «сумма очков не меньше 9».</p> <p>Всего $N = 36$ равновозможных исходов. Из них $N(A) = 10$ благоприятствуют событию A. Значит,</p> $P(A) = \frac{N(A)}{N} = \frac{10}{36} = \frac{5}{18}.$ <p>Ответ: $\frac{5}{18}$.</p> <p>Возможно другое решение</p>	<table border="1" style="margin-left: auto; margin-right: auto;"> <tr> <td></td> <td>1</td> <td>2</td> <td>3</td> <td>4</td> <td>5</td> <td>6</td> </tr> <tr> <td>1</td> <td>2</td> <td>3</td> <td>4</td> <td>5</td> <td>6</td> <td>7</td> </tr> <tr> <td>2</td> <td>3</td> <td>4</td> <td>5</td> <td>6</td> <td>7</td> <td>8</td> </tr> <tr> <td>3</td> <td>4</td> <td>5</td> <td>6</td> <td>7</td> <td>8</td> <td>9</td> </tr> <tr> <td>4</td> <td>5</td> <td>6</td> <td>7</td> <td>8</td> <td>9</td> <td>10</td> </tr> <tr> <td>5</td> <td>6</td> <td>7</td> <td>8</td> <td>9</td> <td>10</td> <td>11</td> </tr> <tr> <td>6</td> <td>7</td> <td>8</td> <td>9</td> <td>10</td> <td>11</td> <td>12</td> </tr> </table>		1	2	3	4	5	6	1	2	3	4	5	6	7	2	3	4	5	6	7	8	3	4	5	6	7	8	9	4	5	6	7	8	9	10	5	6	7	8	9	10	11	6	7	8	9	10	11	12
	1	2	3	4	5	6																																												
1	2	3	4	5	6	7																																												
2	3	4	5	6	7	8																																												
3	4	5	6	7	8	9																																												
4	5	6	7	8	9	10																																												
5	6	7	8	9	10	11																																												
6	7	8	9	10	11	12																																												
Обоснованно получен верный ответ	2																																																	
Дан верный ответ, но решение недостаточно обосновано. ИЛИ Ход решения верный, но допущена вычислительная ошибка	1																																																	
Решение не соответствует ни одному из критериев, перечисленных выше	0																																																	
<i>Максимальный балл</i>	2																																																	

17 Найдите значение выражения $\sqrt{7-4\sqrt{3}} + \sqrt{3}$.

Решение и указания к оцениванию	Баллы
Решение. $\sqrt{4-4\sqrt{3}+3} + \sqrt{3} = \sqrt{(2-\sqrt{3})^2} + \sqrt{3} = 2-\sqrt{3} + \sqrt{3} = 2.$ <p>Возможна другая последовательность действий.</p> <p>Ответ: 2</p>	
Обоснованно получен верный ответ	2
Дан верный ответ, но решение недостаточно обосновано. ИЛИ Ход решения верный, но допущена вычислительная ошибка	1
Решение не соответствует ни одному из критериев, перечисленных выше	0
<i>Максимальный балл</i>	2

18 В прямоугольном треугольнике ABC с гипотенузой AB провели высоту CD и биссектрису CL . Найдите величину угла DCL , если $\angle CAB = 25^\circ$. Ответ дайте в градусах.

Решение и указания к оцениванию	Баллы
Решение. <p>Треугольник CDB подобен треугольнику ACB, поскольку эти прямоугольные треугольники имеют общий острый угол. Следовательно, $\angle DCB = \angle CAB = 25^\circ$. Биссектриса CL делит прямой угол на два угла по 45°. Поэтому $\angle LCB = 45^\circ$ и $\angle DCL = \angle LCB - \angle DCB = 45^\circ - 25^\circ = 20^\circ$.</p> <p>Возможна другая последовательность действий.</p> <p>Ответ: 20°</p>	
Обоснованно получен верный ответ	2
Ход решения верный, но допущена вычислительная ошибка	1
Решение неверно или отсутствует	0
<i>Максимальный балл</i>	2



Система оценивания выполнения всей работы

Максимальный первичный балл за выполнение работы — 24.

Рекомендуемая таблица перевода баллов в отметки по пятибалльной шкале

Отметка по пятибалльной шкале	«2»	«3»	«4»	«5»
Первичные баллы	0–6	7–12	13–18	19–24

**ДОКУМЕНТ ПОДПИСАН
ЭЛЕКТРОННОЙ ПОДПИСЬЮ**

СВЕДЕНИЯ О СЕРТИФИКАТЕ ЭП

Сертификат 194515710994592247154964585592159115514362733450

Владелец Дубонос Светлана Михайловна

Действителен с 03.02.2026 по 03.02.2027